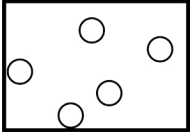
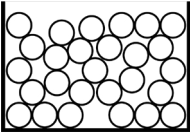

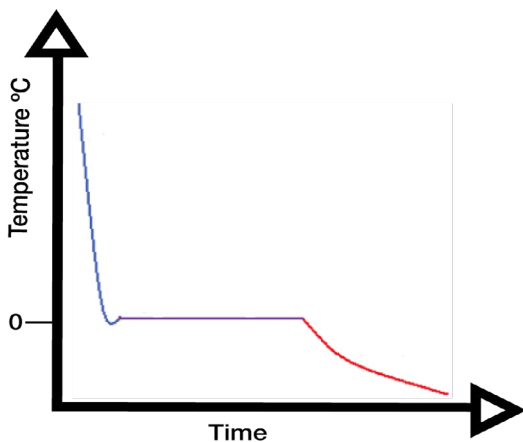


Na stáideanna damhna

Déan meaitseáil ar na léaráide thíos leis an cur síos a gabhann leis.

Solád		Tá na caithníní scaipthe amach, agus is féidir leo bogadh timpeall i ngach treo.
Leacht		Tá na caithníní cóngarach lena chéile i bpátrún rialto. Creathnaíonn said ar an spota.
Gás		Tá na caithníní cóngarach lena chéile ach randamach. Is féidir leo sleamhnú thart ar a chéile.

Cuar fuaraithe uisce



Féach ar an ngraif

- ① Déan cur síos ar an dtreocht atá sa ghraif.
- ② Scríobh ar an ngraif cá bhfuil uisce ina solád, leacht agus gás.
- ③ Mínigh cén fáth gur chuir tú solád, leacht agus gás ins na haiteanna a roghnaigh tú.