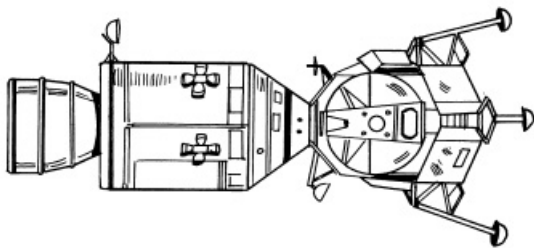



# Ag dul go dtí an Gealach


Bhí clár spáise ann darb ainm Apollo a chuaigh go dtí an Gealach roinnt uaire. Bhí roicéad Saturn V in úsáid chun é a láinséail.



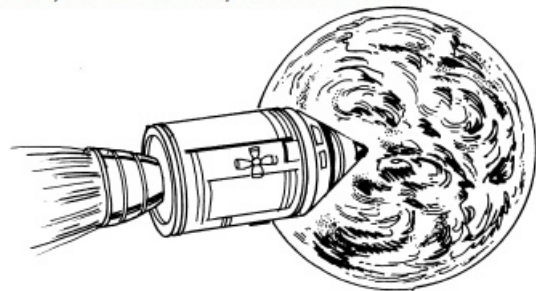
Tá an spásárthach i dtrí páirt




Nuair a shroichtear an Gealach, d'fhan na módúl seirbhíseach agus órdaitheach i bhfithisigh le spásaire laistigh. Níor thuirling ach módúl na gealaí le dhá spásaire laistigh ar an nGealach.




Nuair a d'fhág na spásairí an gealach, d'fhan an bunphíosá de módúl na gealaí taobh thiar



Bhog na spásairí thar nais go dtí na módúl seirbhíseach agus órdaitheach. D'fhág siad an cuid eile de módúl na gealaí i bhfithisigh timpeall an gealach.



Níor tháinig ach an módúl órdaitheach thar nais go dtí an domhan. Bhí teas-sciath ag a bhun chun é a chosaint agus é ag titim tríd atmaisféar an domhan.



D'úsáid siad paraisiúit chun tuirlingt bog a bheith acu san fharrage. Phioc héileacaptar iad suas

## Ceisteanna

- ① Scríobh síos cé mhéid páirteanna a bhí sa spásárthach agus ainmnigh iad.
- ② Cén cuid den spásárthach a tháinig thar nais ar domhan?
- ③ Cén fáth gur d'fhan na módúl órdaitheach agus seirbhíseach i bhfithisigh timpeall an gealach?
- ④ Cén fáth ar imigh módúl na gealaí ón ngealach?
- ⑤ Cad a dhéanann an teas-sciath?
- ⑥ Conas a bhfuil an tuirlingt ar domhan agus ar an ngealach difriúil?
- ⑦ Déan taighde ar cé mhéid misean Apollo atá tar éis tárlúint. Léirigh d'obair i bpé slí is miain leat.